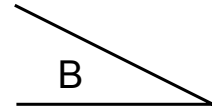
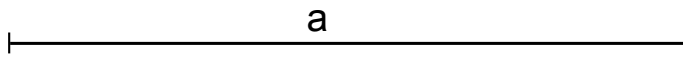
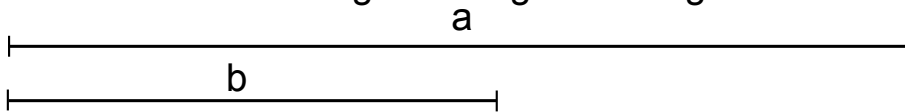


Dado el segmento a y el ángulo B construir un triángulo rectángulo que uno de los catetos sea a y uno de sus ángulos B .



Construir un triángulo rectángulo cuya hipotenusa sea el segmento a y uno de sus lados tenga de longitud el segmento b .



FECHA	CURSO	NOMBRE Y APELLIDOS	I. E. S.
			CIUDAD DE ALGECIRAS
ESCALA			PLANO N°