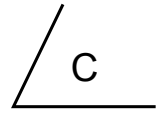
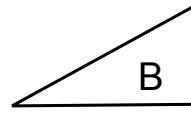
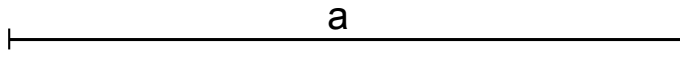
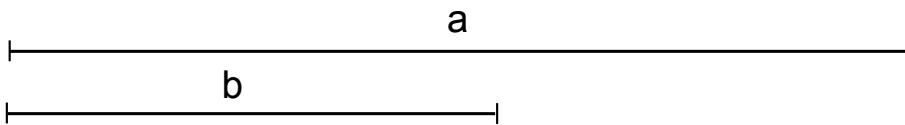


Dado el segmento  $a$  y los ángulos  $B$  y  $C$  construir el triángulo.



Dados los segmentos  $a$  y  $b$  construir un triángulo rectángulo con ellos.



<b>FECHA</b>	<b>CURSO</b>	<b>NOMBRE Y APELLIDOS</b>	<b>I. E. S.</b>
			<b>CIUDAD DE ALGECIRAS</b>
<b>ESCALA</b>			<b>PLANO N°</b>