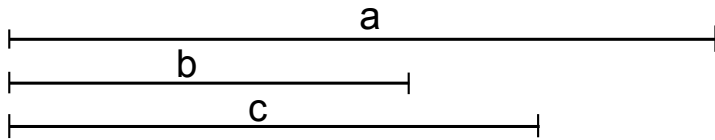
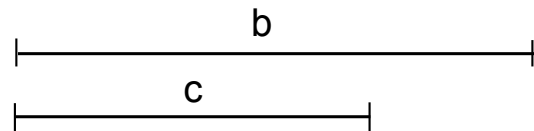
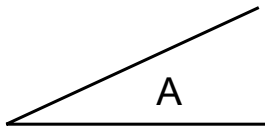


Dados los 3 segmentos siguientes construir un triángulo con ellos.



Dado el ángulo A y los segmentos b y c construir el triángulo.



FECHA	CURSO	NOMBRE Y APELLIDOS	I. E. S.
			CIUDAD DE ALGECIRAS
ESCALA			PLANO N°