


## Las HERRAMIENTAS PARA DIBUJAR

**Regla graduada:** Sirve para medir. Está dividida en centímetros (cm).

Cada línea larga con un número es un centímetro.

La regla de la imagen mide 5 cm.


Las líneas pequeñas son milímetros (mm) y las medianas son 5 mm, que es medio centímetro.



Para dibujar una línea de dos centímetros tenemos que empezar desde el 0 y llegar hasta el 2, como en la imagen.

¿Y para dibujar una línea de 3 cm? Tenemos que empezar desde el 0 y llegar hasta el 3.

¿Y para dibujar una línea de 2 cm y 2 mm? Tenemos que empezar desde el 0 y llegar hasta 3 rayitas pasado el 2 (Fíjate en la imagen).



### **ACTIVIDAD 1:**

Elige la respuesta y cópiala:

1. ¿Para qué sirve una regla graduada?

- a) Para hacer círculos
- b) Para medir
- c) Para colorear

Respuesta: \_\_\_\_\_

2. Las reglas graduadas están divididas en:

- a) Kilos (Kg)
- b) Kilómetros (Km)
- c) Centímetros (cm)

Respuesta: \_\_\_\_\_

3. Las líneas pequeñas de las reglas graduadas son:

- a) No sirven para nada
- b) Milímetros (mm)
- c) Cosas para decorar


Respuesta: \_\_\_\_\_

## ACTIVIDAD 2:

¿Cuánto miden los segmentos de las imágenes?


1. Rodea con un círculo la respuesta:

1 cm - 40 cm - 2 cm - 5 cm - 8 cm




2. Rodea con un círculo la respuesta:

1 cm - 4 cm - 2 cm - 6 cm - 9 cm



3. Rodea con un círculo la respuesta:


10 cm - 3 cm - 2 cm - 5 cm - 1 cm




**ACTIVIDAD 3:**

Encima de cada segmento escribe lo que mide.


A)




B)



C)



D)




**ACTIVIDAD 4:**

¿Cuánto miden los segmentos de las imágenes?


1. Rodea con un círculo la respuesta:

2 cm 1 mm – 9cm 4 mm – 1 cm 3mm




2. Rodea con un círculo la respuesta:

1 cm 2 mm – 5cm 7 mm – 2cm 5mm




3. Rodea con un círculo la respuesta:

3cm 2 mm – 3cm 7 mm – 2cm 9mm



## ACTIVIDAD 5:

Con una regla graduada mide las siguientes líneas:



## ACTIVIDAD 6:

Dibuja los siguientes segmentos con las medidas que se indican:

5cm



3cm 4mm



6cm 7mm

